

Országos Szakiskolai Közismereti Tanulmányi Verseny

2008/2009

TÖRTÉNELEM

I. (iskolai) forduló

2008. december 11.

.....
Intézmény neve

Versenyző		Pontszám		Százalék
Neve	Osztálya	Elérhető	Elért	
.....	100%

..... Javító tanár Igazgató
-----------------------	-------------------

Kedves Javítók!

A feladatok minden helyes megoldására rendszerint 1-1 pont adható. Az általánostól való eltéréseket külön jelöljük.

Sikeres javítást kívánunk!

1. feladat

(6/)

Nézz meg figyelmesen a térképet, majd válaszoljon az alábbi kérdésekre! Válaszait a kérdés alatti vonalra, illetve a fogalmak melletti téglalapba írja!

	a) Mi lehet a térkép címe?	
	...A magyarok vándorlása...	
	b) Olvassa le a térképről és írja a fogalmak mellé, a hozzá leginkább kapcsolható földrajzi terület nevét!	
	vérszerződés	Etelköz
	nomád életmód	Magna Hungaria
	kettős fejedelemség	Levédia
honfoglalás	Kárpát-medence	
finnugor együttélés	Ural környéke	

2. feladat

(9/)

Olvassa el figyelmesen az alábbi fogalmakat!

a) Az alábbi fogalmakkal tölts ki az ábrát!

vármegyerendszer

gazdasági feladat

10 püspökség

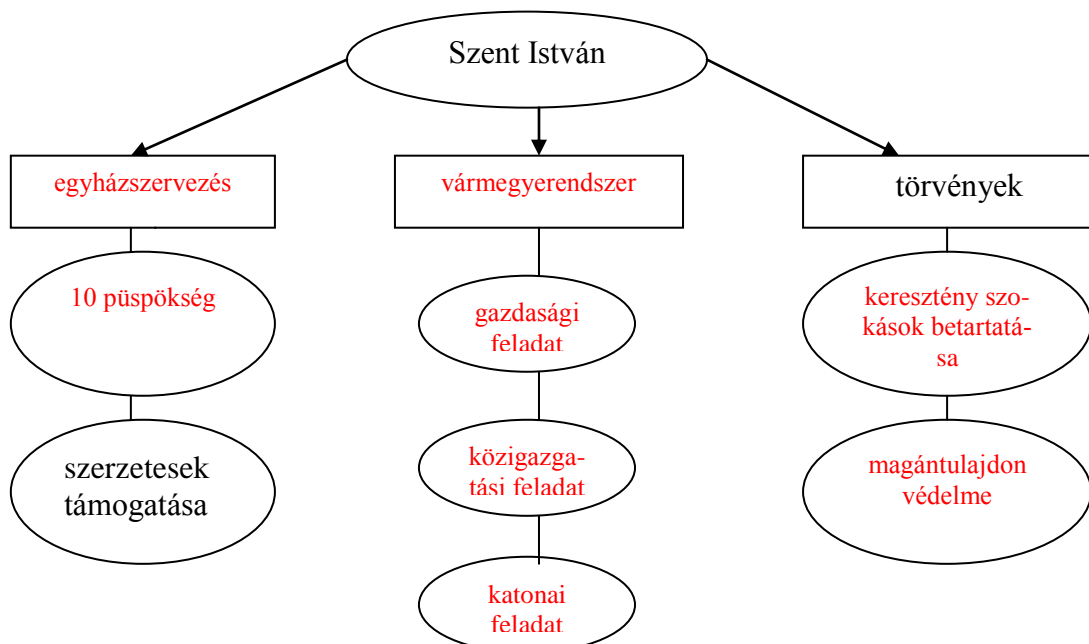
keresztény szokások betartatása

katonai feladat

közigazgatási feladat

egyházszervezés

magántulajdon védelme




b) Mi lehetne az ábra címe? Válaszát írja az alábbi vonalra!

...Szent István **államszervező** tevékenysége...

3. feladat

(5/)

Nézz meg figyelmesen a képet, és válaszoljon az alábbi kérdésekre! A helyesnek tartott választ (kérdésenként csak egyet) húzza alá!

	a) Kit ábrázol a kép? Nagy Lajos Luxemburgi Zsigmond <u>Hunyadi Mátyás</u>
	b) Melyik irányzat támogatója volt? <u>reneszánsz</u> gótika barokk
	c) Mikor uralkodott? 1342–1382 <u>1458–1490</u> 1308–1342
	d) Hogyan halt meg a képen látható személy? vadászbalesetet szenvedett <u>agyvérzést kapott</u> gyilkosság áldozata lett
	e) Melyik kapcsolódik személyéhez? Képes Krónika <u>Corvina</u> Halotti Beszéd

4. feladat

(4/)

Olvassa el az alábbi idézetet figyelmesen, majd válaszoljon az alábbi kérdésekre! A helyesnek tartott választ (kérdésenként csak egyet) húzza alá!

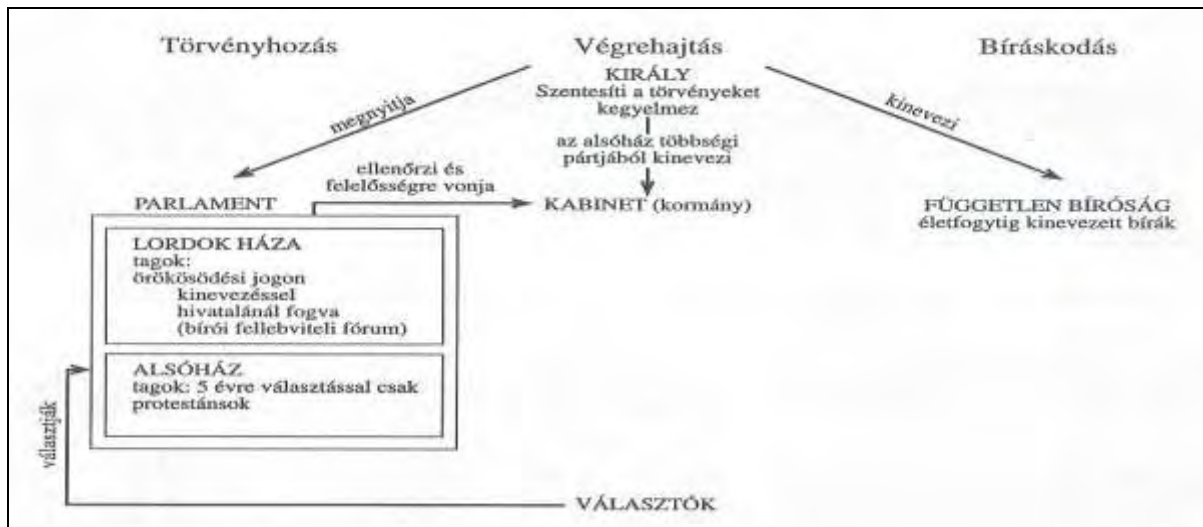
„És, minthogy Ő császári és királyi legszentségesebb felsége, dicsőséges és győzedelmes fegyvereivel, a keresztyén név iszonyú ellenségét, a törököt, számos véres és döntő ütközetben megverte... Ez oly nagy s örökké hálával említendő jótéteményeknek emlékezetére, s alázatosan kedveskedő lelkünknek mindenkorra felismerhető hálája jeléül, e Magyarországnak s kapcsolt részeinek összes karai és rendei kinyilatkoztatják, hogy mostantól jövőre s örök időkre senki mást, mint fenn címzett Ő császári s királyi felségének saját ágyékából származott fi-örökösei közül az első szülöttet... fogják törvényes királyuknak, s uruknak ismerni... és azt mindenkor... meg fogják koronázni.”

- a) Milyen jelentős esemény következményeként született meg a fenti döntés?
Buda visszavétele Karlócai béke Rákóczi-szabadságharc bukása
- b) Mikor történt ez az esemény?
1699 1686 1604
- c) Ki játszott jelentős szerepet ebben?
Thököly Imre Károlyi Sándor Lotharingiai Károly
- d) Milyen eseményt örökít meg az idézet?
A török kiűzése Magyarországról. Szabad királyválasztás jogáról való lemondás. Lemondás az örökös királyságról.

5. feladat

(13/)

Nézz meg figyelmesen az ábrát, majd válaszoljon az alábbi kérdésekre! Válaszait a kérdések melletti vonalakra írja!



Melyek a parlament részei? Milyen módon kerülhetnek be a tagok a parlament különböző részeibe? (6 pont)

- a) ... Lordok háza: örökösödési jogon, kinevezéssel, hivatalánál fogva ...
 b) ... Alsóház: választással, csak protestánsok ...
 c) ... Szentesíti a törvényeket ...

Melyek a király feladatai?

- d) ... Kegyelmez ...
 e) ... Kinevezi a kormányt ...
 f) ... Megnyitja az országgyűlést ...
 g) ... Kinevezi a független bírákat ...

Melyik ország, milyen kormányzati formáját mutatja be?

- h) ... Anglia vagy Nagy Britannia ...
 i) ... alkotmányos vagy parlamentáris királyság ...

6. feladat

(4/)

Mi jellemzi leginkább a mezőgazdasági termelést a 18. század közepétől? Húzza alá az Ön által helyesnek tartott válaszokat (maximum négyet)!

Kétnyomásos földművelés

Robotmunka alkalmazása

Alacsony terméshozam

Új növények (burgonya, kukorica) termesztése

Szántóföldi takarmánytermesztés

Vetésforgó

Istállózó állattartás

Faeke használata

7. feladat

(12/)

Melyik királyunk uralkodására jellemzőek az alábbi meghatározások? Írja az uralkodó nevét a kép alatti, majd a meghatározások megfelelő betűjét a nevek alatti téglalapba! (Egy uralkodóhoz maximum 5 fogalmat kapcsolhat!)

- a) vámrendelet b) felvilágosult abszolutizmus c) jobbágyrendelet
d) úrbéri rendelet e) 40 évig uralkodott f) nyelvrendelet
g) oktatási rendelet h) rendeleteit halálos ágyán visszavonja i) türelmi rendelet

	
Mária Terézia	II. József
a) b) d) e) g)	b) c) f) h) i)

8. feladat

(8/)

Nézz meg figyelmesen a képeket, és az alább felsoroltakból válogassa ki az Ön által helyesnek tartottakat! Válaszait a képek/kérdések alatti táblázatba írja!

- Nemzeti Múzeum Ybl Miklós Pozsony Hild József
Schulek Frigyes Operaház Dualizmus Parlament
Halászbástya Budapest Reformkor Steindl Imre

		
a) Mít ábrázolnak a képek?		
Parlament	Operaház	Halászbástya
b) Ki tervezte az egyes épületeket?		
Steindl Imre	Ybl Miklós	Schulek Frigyes
c) Melyik városban találhatóak ezek az épületek?		
Budapest		
d) Hogy nevezzük azt a korszakot, amelyhez a képek kapcsolódnak?		
Dualizmus		

9. feladat

(18/)

Válassza ki a táblázat eseményeihez kapcsolódó helyszínek és személyek nevét, majd írja a táblázat megfelelő cellájába!

a) Helyszínek (Minden jól megadott település 1 pont.)

Pozsony	Buda	Isaszeg	Schwechat	Bécs
Világos	Pákozd	Arad	Olmütz	

b) Személyek (Minden jól megadott név 1 pont.)

Kossuth Lajos	V. Ferdinánd	Jellasics	Klapka György	Ferenc József
Görgey Artúr	Haynau	Bem József	Táncsics Mihály	

Időrend	Esemény	Helyszín	Név
4	A honvédsereg első győzelme	Pákozd	Jellasics
7	Vértanúk kivégzése	Arad	Haynau
5	Magyarország önállóságát megszüntető alkotmány szentesítése	Olmütz	Ferenc József
1	Felirati javaslat elfogadtatása	Pozsony	Kossuth Lajos
3	Áprilisi törvények	Bécs	V. Ferdinánd
6	Fegyverletétel	Világos	Görgey Artúr
2	Politikai foglyok kiszabadítása	Buda	Táncsics Mihály

c) Számozással állítsa időrendbe az eseményeket, a számokat írja be a táblázat megfelelő helyére! (A legkorábbit 1-es számmal jelölje!) (Csak hibátlan sorrend esetén adható 1 pont.)

d) Melyik történelmi eseményhez kapcsolódnak a felsoroltak?

Esemény:... Forradalom és szabadságharc ... (1 + 1)

Évszám:...1848/49... (1)

10. feladat

(5/)

Melyik esemény történt korábban? A helyesnek tartott választ húzza alá!

Árpád-ház kihalása

vagy

Ősiség törvénye

Reformáció kezdete

vagy

Mohácsi csata

Német Császárság kikiáltása

vagy

Kiegyezés

Szent Szövetség megalakulása

vagy

Magyar jakobinusok kivégzése

Rákóczi szabadságharc

vagy

Ipari forradalom

11. feladat

(16/)

Tanulmányozza a térképet és a táblázatot, majd válaszoljon az alábbi kérdésekre! Válaszait a kérdések alatti téglalapba, illetve vonalra írja!



Európa a XIX. század végén és XX. század elején

a) Országok megnevezése (0,5-0,5 pont)

1. Oroszország	2. Németország	3. Anglia /Nagy Britannia
4. Olaszország	5. Osztrák- Magyar Mo- narchia	6. Franciaország

b) Katonai szövetségek

Szövetség neve	Megalakulás éve	Szövetség tagjai (0,5- 0,5 p.)
Hármas Szö- vetség	1882	2.; 4.; 5.
Antant	1904 (1907)	1.; 3.; 6.

Ország	Gyarmatok 1910-ben	
	km ² (millió)	Lakos (millió)
Amerikai Egyesült Államok	1,9	8,9
Franciaország	6,8	39,6
Nagy-Britannia	29,1	351,3
Japán	0,3	13,3
Németország	2,6	10,8
Olaszország	0,4	0,7
Oroszország	17,4	33,2
Osztrák–Magyar Monarchia	0	0

c) Milyen összefüggést lát a katonai szövetségek szembenállása és gyarmataik nagysága között? Írjon három összefüggést, kerek egészmondatokkal válaszoljon!

1. Antant országai (1 pont) kiterjedt gyarmatbirodalmakkal rendelkeznek (1 pont).
2. Hármas Szövetség országainak (1 pont) kevés, illetve egyáltalán nincs gyarmata (1 pont).
3. A küzdelem a gyarmatok megszerzésért, illetve megtartásáért folyik (2 pont). vagy
3. Megindul a harc a világ újrafelosztásáért (2 pont).