

# Országos Szakiskolai Közismereti Tanulmányi Verseny

2008/2009

## TÖRTÉNELEM

I. (iskolai) forduló

2008. december 11.

.....  
Intézmény neve

Versenyző		Pontszám		Százalék
Neve	Osztálya	Elérhető	Elért	
.....	.....	100	.....	..... %

..... Javító tanár	..... Igazgató
-----------------------	-------------------

### ***Kedves Versenyző!***

*A feladatok megoldására 60 perc áll rendelkezésére. A feladatokat tetszés szerinti sorrendben oldhatja meg. Kérjük, ügyeljen az idő beosztására! A feladatmegoldáshoz bármely középiskolai történelmi atlasz használható.*

***Sikeres feladatmegoldást kívánunk!***

**1. feladat**

(6/ )

Nézz meg figyelmesen a térképet, majd válaszoljon az alábbi kérdésekre! Válaszait a kérdés alatti vonalra, illetve a fogalmak melletti téglalapba írja!



a) Mi lehet a térkép címe? .....	
b) Olvassa le a térképről és írja a fogalmak mellé, a hozzá leginkább kapcsolható földrajzi terület nevét!	
vérszerződés	<input type="text"/>
nomád életmód	<input type="text"/>
kettős fejedelemség	<input type="text"/>
honfoglalás	<input type="text"/>
finnugor együttélés	<input type="text"/>

**2. feladat**

(9/ )

Olvassa el figyelmesen az alábbi fogalmakat!

a) Az alábbi fogalmakkal tölts ki az ábrát!

vármegyerendszer

gazdasági feladat

10 püspökség

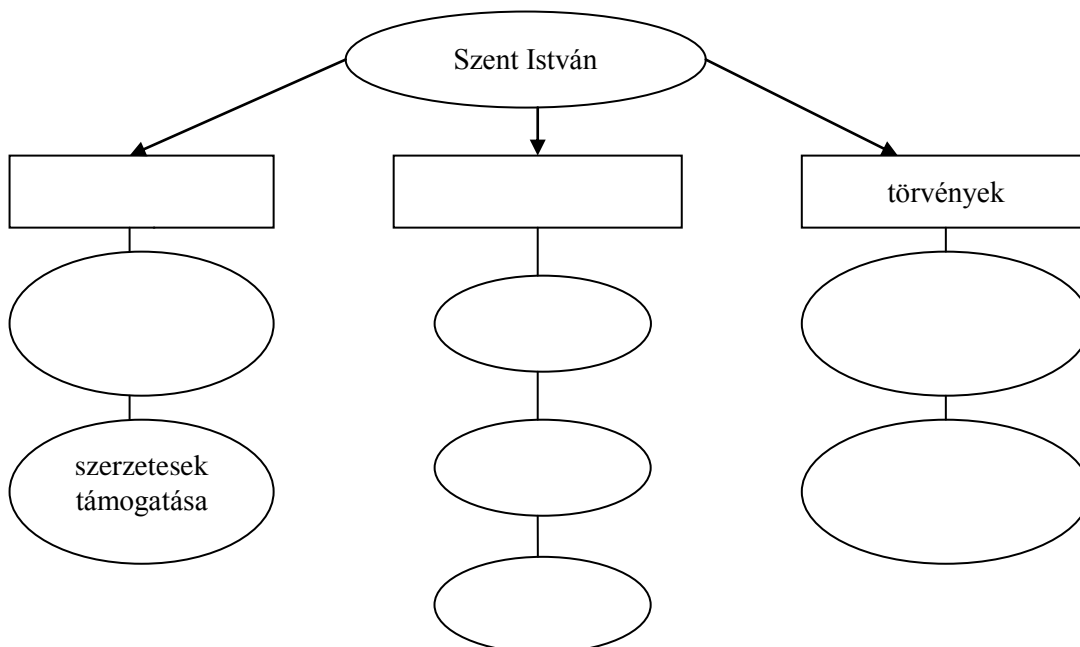
keresztény szokások betartatása

katonai feladat

közigazgatási feladat

egyházszervezés

magántulajdon védelme




b) Mi lehetne az ábra címe? Válaszát írja az alábbi vonalra!

.....

3. feladat

(5/ )

Nézz meg figyelmesen a képet, és válaszoljon az alábbi kérdésekre! A helyesnek tartott választ (kérdésenként csak egyet) húzza alá!

	a) Kit ábrázol a kép? Nagy Lajos                      Luxemburgi Zsigmond                      Hunyadi Mátyás
	b) Melyik irányzat támogatója volt? reneszánsz    gótika    barokk
	c) Mikor uralkodott? 1342–1382    1458–1490    1308–1342
	d) Hogyan halt meg a képen látható személy? vadászbalesetet szenvedett                      agyvérzést kapott                      gyilkosság áldozata lett
	e) Melyik kapcsolódik személyéhez? Képes Krónika    Corvina    Halotti Beszéd

4. feladat

(4/ )

Olvassa el az alábbi idézetet figyelmesen, majd válaszoljon az alábbi kérdésekre! A helyesnek tartott választ (kérdésenként csak egyet) húzza alá!

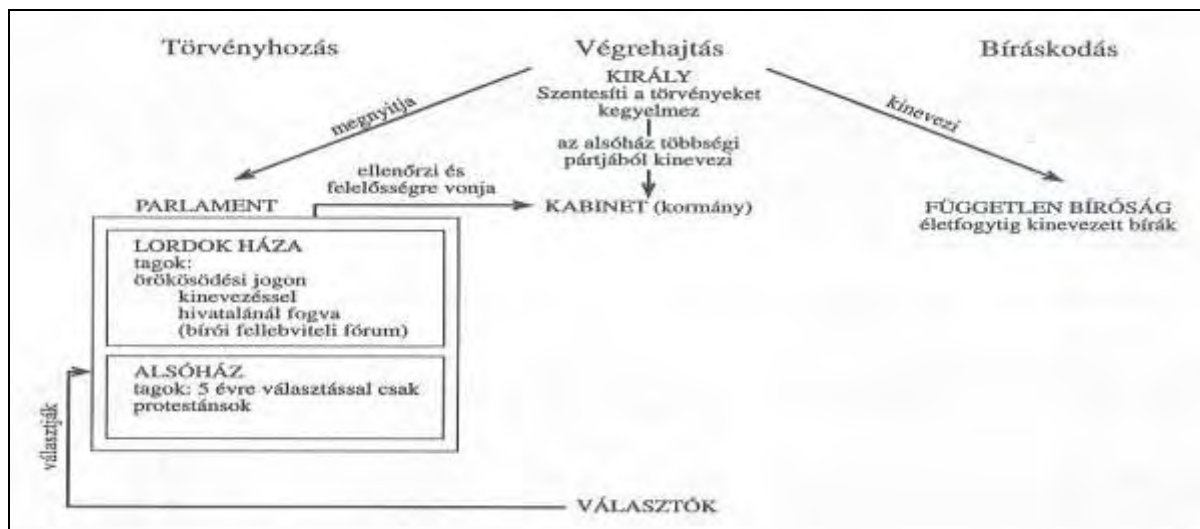
„És, minthogy Ő császári és királyi legszentségesebb felsége, dicsőséges és győzedelmes fegyvereivel, a keresztyén név iszonyú ellenségét, a törököt, számos véres és döntő ütközetben megverte... Ez oly nagy s örökké hálával említendő jótéteményeknek emlékezetére, s alázatosan kedveskedő lelkünknek mindenkorra felismerhető hálája jeléül, e Magyarországnak s kapcsolt részeinek összes karai és rendei kinyilatkoztatják, hogy mostantól jövőre s örök időkre senki mást, mint fenn címzett Ő császári s királyi felségének saját ágycékából származott fi-örökösei közül az első szülöttet... fogják törvényes királyuknak, s uruknak ismerni... és azt mindenkor... meg fogják koronázni.”

- a) Milyen jelentős esemény következményeként született meg a fenti döntés?  
Buda visszavétele                      Karlócai béke                      Rákóczi-szabadságharc bukása
- b) Mikor történt ez az esemény?  
1699    1686    1604
- c) Ki játszott jelentős szerepet ebben?  
Thököly Imre    Károlyi Sándor    Lotharingiai Károly
- d) Milyen eseményt örökít meg az idézet?  
A török kiűzése Magyarországról.                      Szabad királyválasztás jogáról való lemondás.                      Lemondás az örökös királyságról.

5. feladat

(13/ )

Nézze meg figyelmesen az ábrát, majd válaszoljon az alábbi kérdésekre! Válaszait a kérdések melletti vonalakra írja!



a) .....

Melyek a parlament részei? Milyen módon kerülhetnek be a tagok a parlament különböző részeibe?

b) .....

c) .....

d) .....

Melyek a király feladatai?

e) .....

f) .....

g) .....

Melyik ország, milyen kormányzati formáját mutatja be?

h) .....

i) .....

6. feladat

(4/ )

Mi jellemzi leginkább a mezőgazdasági termelést a 18. század közepétől? Húzza alá az Ön által helyesnek tartott válaszokat (maximum négyet)!

Kétnyomásos földművelés

Robotmunka alkalmazása

Alacsony terméshozam

Új növények (burgonya, kukorica) termesztése

Szántóföldi takarmánytermesztés

Vetésforgó

Istállózó állattartás

Faeke használata

7. feladat

(12/ )

Melyik királyunk uralkodására jellemzőek az alábbi meghatározások? Írja az uralkodó nevét a kép alatti, majd a meghatározások megfelelő betűjét a nevek alatti téglalapba! (Egy uralkodóhoz maximum 5 fogalmat kapcsolhat!)

- a) vámrendelet                      b) felvilágosult abszolutizmus                      c) jobbágyrendelet  
d) úrbéri rendelet                      e) 40 évig uralkodott                      f) nyelvrendelet  
g) oktatási rendelet                      h) rendeleteit halálos ágyán visszavonja                      i) türelmi rendelet

8. feladat

(8/ )

Nézze meg figyelmesen a képeket, és az alább felsoroltakból válogassa ki az Ön által helyesnek tartottakat! Válaszait a képek/kérdések alatti táblázatba írja!

- Nemzeti Múzeum                      Ybl Miklós                      Pozsony                      Hild József  
Schulek Frigyes                      Operaház                      Dualizmus                      Parlament  
Halászbástya                      Budapest                      Reformkor                      Steindl Imre

		
a) Mít ábrázolnak a képek?		
b) Ki tervezte az egyes épületeket?		
c) Melyik városban találhatóak ezek az épületek?		
d) Hogy nevezzük azt a korszakot, amelyhez a képek kapcsolódnak?		

**9. feladat**

(18/ )

**Válassza ki a táblázat eseményeihez kapcsolódó helyszínek és személyek nevét, majd írja a táblázat megfelelő cellájába!**

a) Helyszínek

Pozsony	Buda	Isaszeg	Schwechat	Bécs
Világos	Pákozd	Arad	Olmütz	

b) Személyek

Kossuth Lajos	V. Ferdinánd	Jellasics	Klapka György	Ferenc József
Görgey Artúr	Haynau	Bem József	Táncsics Mihály	

Időrend	Esemény	Helyszín	Név
	A honvédsereg első győzelme		
	Vértanúk kivégzése		
	Magyarország önállóságát megszüntető alkotmány szentesítése		
	Felirati javaslat elfogadtatása		
	Áprilisi törvények		
	Fegyverletétel		
	Politikai foglyok kiszabadítása		

c) Számozással állítsa időrendbe az eseményeket, a számokat írja be a táblázat megfelelő helyére! (A legkorábbit 1-es számmal jelölje!)

d) Melyik történelmi eseményhez kapcsolódnak a felsoroltak?

Esemény:.....

Évszám:...../.....

**10. feladat**

(5/ )


**Melyik esemény történt korábban? A helyesnek tartott választ húzza alá!**

Árpád-ház kihalása	vagy	Ősiség törvénye
Reformáció kezdete	vagy	Mohácsi csata
Német Császárság kikiáltása	vagy	Kiegyezés
Szent Szövetség megalakulása	vagy	Magyar jakobinusok kivégzése
Rákóczi szabadságharc	vagy	Ipari forradalom

11. feladat

(16/ )

Tanulmányozza a térképet és a táblázatot, majd válaszoljon az alábbi kérdésekre! Válaszait a kérdések alatti téglalapba, illetve vonalra írja!

 <p>Európa a XIX. század végén és XX. század elején</p>	a) Országok megnevezése		
	1.	2.	3.
	4.	5.	6.
	b) Katonai szövetségek		
	Szövetség neve	Megalakulás éve	Szövetség tagjai

Ország	Gyarmatok 1910-ben	
	km <sup>2</sup> (millió)	Lakos (millió)
Amerikai Egyesült Államok	1,9	8,9
Franciaország	6,8	39,6
Nagy-Britannia	29,1	351,3
Japán	0,3	13,3
Németország	2,6	10,8
Olaszország	0,4	0,7
Oroszország	17,4	33,2
Osztrák–Magyar Monarchia	0	0

c) Milyen összefüggést lát a katonai szövetségek szembenállása és gyarmataik nagysága között? Írjon három összefüggést, kerek egészmondatokkal válaszoljon!

.....

.....

.....

.....

.....

.....

.....

.....

.....