

Országos Szakiskolai Közismereti Tanulmányi Verseny

2010/2011

TÖRTÉNELEM

III. (országos döntő) forduló

2011. április 16.

Bencs László Szakiskola és Általános Iskola

Nyíregyháza

Versenyző		Pontszám	
Kódja		Elérhető	Elért
OD-.....		78

..... Javító tanár Zsűri elnöke
-----------------------	-----------------------

Kedves Versenyző!

A feladatsor megválaszolására 60 perc áll rendelkezésére.

A feladatokat tetszés szerinti sorrendben oldhatja meg.

Kérjük, ügyeljen az idő beosztására!

Középiskolai történelmi atlaszt biztosítunk!

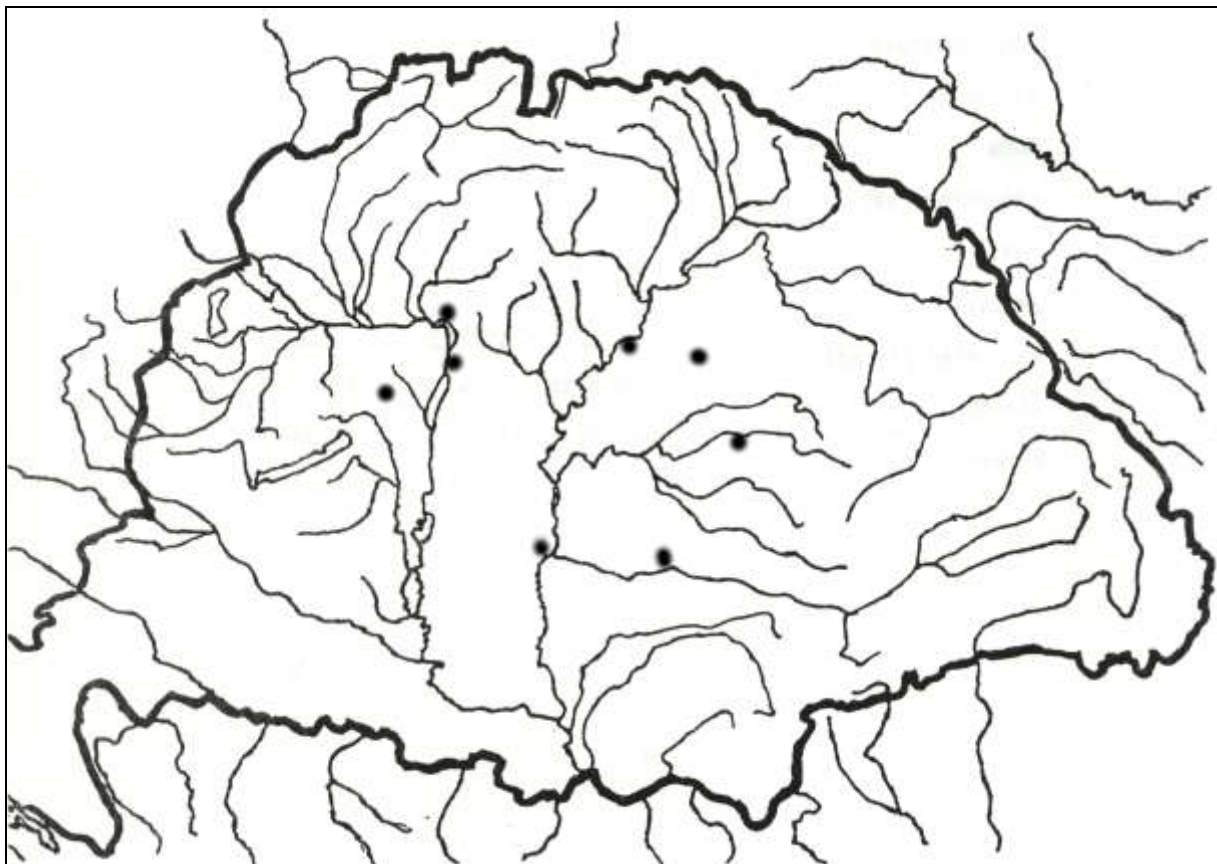
Sikeres feladatmegoldást kívánunk!

1. feladat

(8)

Az alábbiakban az 1848/49-es forradalom és szabadságharc fontos történéseiről olvashat egy táblázatban. Annak a helységnek (településnek) a nevét, amelyre ráismer, írja a második oszlopba, majd a sorszámot a táblázat alatti térkép megfelelő pontjához! Használja az atlaszt!

	<i>A helység neve</i>	<i>Az esemény megnevezése</i>
1.		Itt zajlik a szabadságharc első csatája.
2.		Itt ül össze az első népképviseleti országgyűlés.
3.		1849. január 9-étől itt ülésezik az országgyűlés.
4.		A tavaszi hadjárat április 10-ei csatájának helyszíne.
5.		Az OHB rendeletére fegyver- és lőporgyár létesül itt.
6.		A Dembinszky elleni „tiszti lázadás” helyszíne.
7.		Az országgyűlés és a kormány itt ülésezik 1849 júliusában.
8.		A 13 honvédtábornok kivégzésének helye.



2. feladat

(8)

A következő feladathoz egy „képeslapot” adunk. A képek mellett található kérdésekre kell válaszolniuk!

	<p>1. Vezeték- és keresztnéve:</p> <p>2. Melyik vármegye követe volt a reformországgyűlésen?</p>		<p>3. Kossuth ezt a tárcát kapta a Batthyány kormányban:</p> <p>4. Hol lett kormányzóelnök?</p>
	<p>5. Vezeték- és keresztnéve:</p> <p>6. Mikor koronázták magyar királlyá?</p>		<p>7. A „Haza bölcsének” teljes neve:</p> <p>8. Mi volt a fő „műve” 1867-ben?</p>

3. feladat

(8)

A Kommunista Kiáltvány alapján válaszoljon a kérdésekre!

„Minden eddigi társadalom története osztályharcok története. Szabad és rabszolga, patricius és plebejus, báró és jobbágy, céhmester és mesterlegény, egyszerűen elnyomó és elnyomott folytonos ellentétben álltak egymással, szakadatlan, hol palástolt, hol nyílt harcot vívtak, olyan harcot, amely mindenkor az egész társadalom forradalmi átalakulásával vagy a harcban álló osztályok közös pusztulásával végződött...

A hűbéri társadalom pusztulásából keletkezett modern polgári társadalom nem szüntette meg az osztályellentéteket. Csak új osztályokkal, az elnyomás új feltételeivel, a harc új formájával cserélte fel a régieket.

A mi korszakunkat, a burzsoázia korszakát azonban az jellemzi, hogy egyszerűsítette az osztályellentéteket. Az egész társadalom mindinkább két nagy ellenséges táborra szakad, két nagy, egymással homlokegyenest szembenálló osztályra: burzsoáziára és proletariátusra.

A proletariátus arra használja fel politikai uralmát, hogy a burzsoáziától fokról fokra elragadjon minden tőkét, hogy az állam, azaz az uralkodó osztályt szervezett proletariátus kezében centralizálja minden termelési szerszámot, és lehetőleg leggyorsabban növelje a termelőerők tömegét... mint uralkodó osztály a régi termelési viszonyokat erőszakkal megszünteti, akkor a termelési viszonyokkal együtt megszünteti az osztályellentétnek, egyáltalában az osztályoknak a létfeltételét, és ezzel saját magának mint osztálynak az uralmát is.”

(Marx-Engels: Kommunista Kiáltvány)

a) Mi a történelem, a társadalmak története Marxék szerint?

.....

b) Hogy egyszerűsíti le a két osztály szerepét? Mi a két szerep?

.....

.....

c) Melyek az újkor szembenálló osztályai?

.....

d) Mi a proletariátus történelmi szerepe?

.....

e) Milyen sors vár a proletárdiktatúrában az államra?

.....

f) Mi a gazdaságban a munkásosztály legfőbb feladata?

.....

4. feladat

(8)

A következő feladat a mai naphoz kapcsolódik. 1865-ben ezen a napon jelent meg a Pesti Naplóban Deák Ferenc híres „Húsvéti cikke”. A szövegből hiányzó, sorszámmal megjelölt információkat az alatta lévő táblázatba, a megfelelő számhoz írja be!


„... a nemzet az 1687. évi **1. (helynév)** országgyűlésen egész készséggel törvényt alkotott, mely a fejedelem kívánsága szerint megállapította a Habsburgi ház fiágának trónöröklési jogára nézve az elsőszülöttséget. A birodalom második szilárdabb megalakulásának lehet a Pragmatica Sanctio-t tekinteni, mely nélkül a birodalom III., illetőleg VI. Károly halála után valószínűleg szétment volna. ...Valamint az **2. (évszám)**-i országgyűlés, úgy mi is csak a sanctio pragmaticából indulhatunk ki. Meg van ott határozva az **3.-ház** közössége, az elválaszthatatlan és feloszthatatlan birtoklás, s az ebből természetesen következő **4. (jelző)** védelem. ...amit tett, önjaváért is tette, s épen úgy védték Magyarországot a **5.-túli** országok seregei hosszú évek során keresztül. Csak azért szólnunk ezekről, hogy a történelemben is bebizonyítsuk, miszerint **6. (jelző)** önállásunk mellett sem veszett miattunk és általunk a birodalom biztossága. Mi nem akarjuk ezen alkotmányos önállást feláldozni, mert a Lajtán-túli népek új alkotmányának egyes pontjai másképp hangzanak; de készek leszünk mindenkor törvényszabta úton saját törvényeinket a **7. (a birodalom neve)** szilárd fennállhatásának biztosságával összhangzásba hozni, s a lajtántúli országok szabadságának és alkotmányos kifejlődésének útjában állani soha **8. (a mondat befejezése).**”

1.		4.		7.	
2.		5.		8.	
3.		6.			

5. feladat

(6)

Alább néhány korabeli képet láthat az 1920-as évekből. Válaszoljon a dokumentumokhoz kapcsolódó kérdésekre!



a) Milyen tragikus eseményhez köthetjük a három képet?

.....

b) A bal oldali kép szerint több szomszédos ország „részesült” hazánkból. Írja le a nevüket!

.....
.....

c) Milyen történelmi fogalomra utal a „Nem! Nem! Soha!” a középső képen?

.....






d) Ki az avató államfő a jobb oldali képen, és kiket avat éppen a Margitszigeten?


.....
.....

6. feladat

(16)

Párok keresik egymást! Az alábbi albumban a XX. század első feléből láthat személyeket, akiket a képek alatti táblázatban megadott szempontok szerint párosítania kell. Írja a táblázat megfelelő cellájába a megfelelő személy képe melletti betűt!

A			B
C			D
E			F

G			H
I			J

<i>Az összefüggés</i>	<i>Betű</i>	<i>Betű</i>
Az első világháborús békeszerződések megalkotói.		
A Szovjetunió „alapítói”, szellemi vezérei.		
A keletről, illetve nyugatról Berlin felé haladó erők főparancsnokai.		
Az afrikai hadszíntér szembenálló tábornokai.		
Az angliai légi csata idejének szembenálló kormányfői.		
A Führer és az összeesküvő.		
Két amerikai elnök.		
A normandiai partraszállás parancsnoka és helyettese.		

7. feladat

(8)

Április 16-a Magyarországon a holokauszt emléknapja. Edmund Veessenmayer német birodalmi megbízott 1944. évi jelentése is ehhez kapcsolódik. A forrás alapján válaszoljon a kérdésekre!

„Magyarország 20 éven keresztül [...] alázatosan várta területének növekedését anélkül, hogy gyakorlatilag bármit is tett volna annak érdekében. [...] Három ízben növekedett a területe jelentős mértékben a birodalom révén, három ízben növekedett saját közreműködése és harca nélkül. [...] Kállay és társai készek arra, hogy Magyarországot kiszolgáltassák Anglia vagy Oroszország akaratának. [...]

1. A kormányzónak nincs hatalma, nincs helyes ösztöne. [...] A kormányzó lényében tulajdonképpen katona, de csakis katona. [...] Amilyen jó katonás szelleme, olyan siralmasak politikai képességei. [...]

6. [...] Minden értünk vérző magyar a mi véráldozatunkat csökkenti, erősíti tartalékainkat a további hadviseléshez, és segít abban, hogy erőinket megőrizzük a háború utáni nagy feladatok megoldására.

[...] előfeltétele a jelenlegi kormány leváltása; pótlására a nemzeti ellenzékkel német irányítás alatt álló kormány alakítandó. [...] Eljött az ideje, hogy megszüntessük Magyarország önállósodásának állapotát. [...] Ütött az óra, hogy a zsidókérdéshez alaposan hozzájáruljunk.”

a) Írja le a forrásban felidézett három területgyarapodás évszámát kronológiai rendben!

1. 2. 3.

b) Írja le a forrásban idézett kormányzó nevét!

.....

c) Sorolja fel, hogy mely politikai, katonai, társadalmi lépések megtételére tesz javaslatot a jelentés!

Politikai:

Katonai:

Társadalmi:

d) Állapítsa meg, hogy a javasolt intézkedések mely cél elérését szolgálják!

.....

8. feladat

(8)

Az alábbi események az 1945 utáni magyar történelemhez kapcsolódnak. Az állításhoz kösse hozzá egy-egy történelmi személyiség nevét! Válaszait írja a megfelelő cellába!

<i>Állítás</i>	<i>A történelmi személy neve</i>
Az 1946-os II. Magyar Köztársaság elnöke:	
Ő „Sztálin elvtárs legjobb magyar tanítványa”, a személyi kultusz hazai megteremtője:	
Az 1956-os forradalom mártír miniszterelnöke:	
A konszolidáció atyja, az '56 utáni korszak névadója:	
A világszerte legismertebb magyar, a XX. század góllövője:	
Az 1990-ben szabadon választott első miniszterelnökünk:	
A rendszerváltáskor megválasztott első köztársasági elnök:	
Jelenlegi köztársasági elnökünk:	

9. feladat

(8)

Az utolsó feladat a mindennapi ismeretekhez kapcsolódik. A felsorolt fogalmakat, neveket helyettesítse be az alatta lévő szövegbe!

ügyészség *polgárőrség* *Schengen* *NATO* *népességcsökkenés*
határon túli magyarság *kormányhivatalok* *kettős állampolgárság*

Polgáron Tóth József polgármester kezdeményezésére seriffet neveztek ki, akinek a település biztonsága érdekében legfőbb segítője, a helyi

Napjainkban a legtöbb vitás kérdésünk a szomszédos országok közül Szlovákiával van, különösen kiélezte a viszonyt a kérdése.

Nemzetbiztonságunkat szavatolja a világ legerősebb katonai-politikai szervezete, a, amelynek 1999 óta a tagjai vagyunk.

Országunk legnagyobb problémái közé tartozik a folyamatos, aminek számos területen kedvezőtlen a hatása.

Nyomozást rendelt el az különösen nagy kárt okozó csalás ügyében, magalapozottnak nyilvánítva a feljelentést.

A keleti és déli határszakaszaink, vagyis Ukrajna, Románia, Szerbia és Horvátország felé az Európai Uniónak az egységes vámmentesség szempontjából külső, vagyis úgynevezett-i határai.

A Nemzeti Összetartozás Napját idén először ünnepeljük majd június 4-én. Ekkor különös figyelmet kap részünkről a

2011 januárjától a korábbi regionális vagy megyei hivatalok helyét vették át.