

# Országos Szakiskolai Közismereti Tanulmányi Verseny

2010/2011

## TÖRTÉNELEM

I. (iskolai) forduló

2010. december 16.

-----  
Intézmény neve (bélyegző)

<i>Versenyző</i>		<i>Pontszám</i>	
<i>Neve</i>	<i>Megye</i>	<i>Elérhető</i>	<i>Elért</i>
		<b>60</b>	

----- <i>Felkészítő tanár</i>	----- <i>Javító tanár</i>
----------------------------------	------------------------------

### ***Kedves Versenyző!***

*A feladatok megoldására 60 perc áll rendelkezésére. A feladat megoldásához a középiskolai történelmi atlaszok bármelyike használható, más segédeszköz nem.*

*A feladatokat tetszés szerinti sorrendben oldhatja meg.*

*Kérjük, ügyeljen az idő beosztására!*

***Sikeres feladatmegoldást kívánunk!***

**1. feladat**

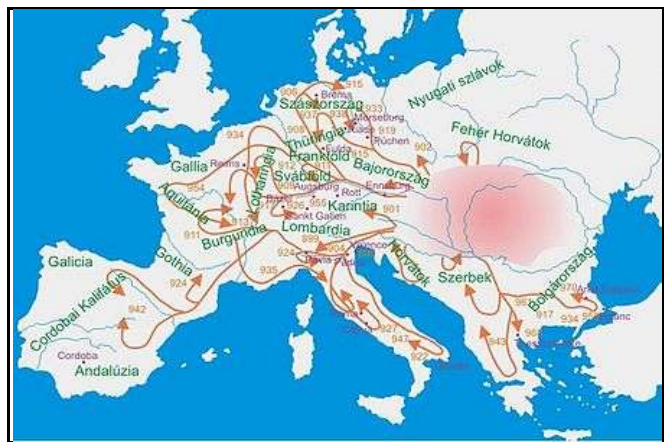
**(8 pont)**

**Olvassa el figyelmesen az alábbi idézetet, nézze meg a képeket, majd válaszoljon a kérdésekre!**

„A bolgárok határait rohanják meg gyakori ellenséges becsapásokkal; karddal csak keveseket, de sok ezretet ölnek meg nyilaikkal, amelyeket olyan ügyesen lőnek ki szaru-íjaikról, hogy lövéseik ellen alig lehet védekezni.

Ugyanis arcvonalban közelről harcolni vagy városokat ostrommal bevenni nem tudnak. Előreszárguló vagy meghátráló lovaikon harcolnak, gyakran színlelnek futást is. És nem tudnak sokáig harcolni egyébként, ha akkora lenne a kitartásuk is, amilyen erős a támadásuk, akkor elviselhetetlenek lennének. Többnyire a heves viadal közepén abbahagyják az ütközetet, és kevéssel utóbb a futásból visszafordulnak a csatába, és amikor azt hinnéd, hogy már győztél, éppen akkor jutsz halálos veszedelembe. Ez ocsmány népnek a vadsága tehát nem csupán az említett vidékeket, hanem legnagyobb részét Itália országát is elpusztította.”

*(Regino, prümi apát évkönyve)*



- a) A magyar történelem melyik eseményével kapcsolatosak a források?  
.....
- b) Melyik évszázadban történt az esemény?  
.....
- c) Melyek voltak a támadások fő irányai? (Az égtájak megadásával válaszoljon!)  
.....
- d) Milyen harcmodort, taktikát alkalmaztak ősünk?  
.....
- e) Milyen harcászati területen voltak eredménytelenek?  
.....

2. feladat

(9 pont)

Az alábbi képeken a magyar történelem kiemelkedő jelentőségű dokumentumait látja. Az alább felsorolt információk közül válassza ki és írja a megfelelő kép alá az Ön által helyesnek tartottat!

Szent István  
Első törvényeink

1723  
II. András

Aranybulla  
1031

III. Károly  
Pragmatica Sanctio

1722

3. feladat

(10 pont)


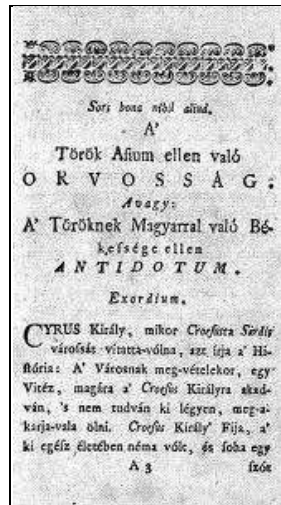
A középkori magyar államra vonatkozó meghatározásokról döntse el, igazak (I) vagy hamisak (H)!  
Válaszát a pontozott vonalra írja!

- a) A jobbágnak nem lehetett önálló háza. ....
- b) A déli harangszó Hunyadi János nándorfehérvári győzelmére emlékeztet. ....
- c) Zsigmond a konstanzi zsinaton helyreállította a keresztény egyház egységét. ....
- d) V. László kivégeztette Hunyadi Jánost. ....
- e) 1370-ben Károly Róbert örökölte a lengyel trónt. ....
- f) A jobbágytelekért a jobbágy szolgáltatásokkal tartozott. ....
- g) A terményszolgáltatás során a jobbágy általában több gabonát adott le, mint amennyi magának maradt. ....
- h) A rigómezei csatát I. Ulászló király halála döntötte el. ....
- i) Mátyás könyvtárának díszes kéziratos könyvei a corvinák voltak. ....
- j) A visegrádi királytalálkozón a magyar, cseh és a lengyel király vett részt. ....

4. feladat

(4 pont)

Tanulmányozza a táblázatban lévő képeket és válaszoljon az alábbi kérdésekre!



a) Kit ábrázol a baloldali kép?

.....

b) Mi volt életének egyik legnevezetesebb haditette?

.....

c) Mire áldozta egész életét?

.....

d) Hogyan halt meg a képen látható személy?

.....



5. feladat

(12 pont)

Az angol és a francia polgári forradalmakkal kapcsolatos megállapításokat olvashat az alábbiakban, illetve a két országra jellemző egy-egy képet lát a táblázatban.

1. A királyt kivégezték.
2. Cromwell katonai diktatúrát vezetett be.
3. Egy rövid ideig alkotmányos királyság lett az államforma.
4. A mai napig is az akkor megteremtett alkotmányos királyság az államforma.
5. 1792-ben kikiáltották a köztársaságot.
6. Orániai Vilmos lett az uralkodó.
7. A forradalom 1789. július 14-én kezdődött.
8. A forradalmi terror során állandósultak a kivégzések.
9. I. Károly 1640-ben összehívta a parlamentet.
10. A rendi gyűlés alkotmányozó nemzetgyűléssé alakult.

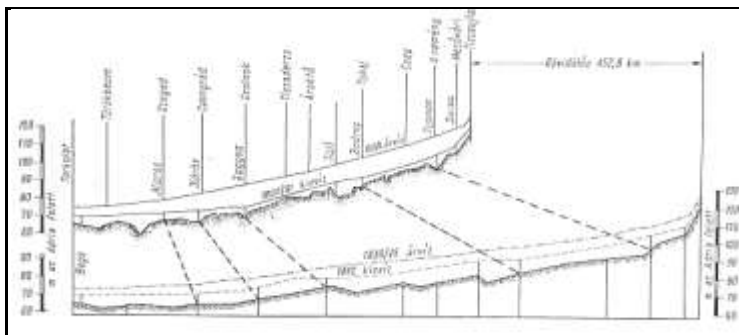
- a) Írja a képek alá a megfelelő ország nevét!  
b) Döntse el az egyes információkról, hogy melyik országra vonatkozik! Az állítások előtti számot írja a megfelelő oszlopba!

		
	<b>Mindkettőre igaz</b>	

6. feladat

(6 pont)

Nézze meg figyelmesen a képet, és válaszoljon a kérdésekre!



A szabályozásnak köszönhetően a folyó eredeti hossza 1419 km-ről egyharmadával, 966 km-re csökkent, 112 átvágást létesítettek. A folyó meggyorsult, a korábbi 5–6 hónapos áradásokkal szemben kb. 2,5 hónap alatt vonul le az ár. A folyó völgyében 3555 km töltéssel 4,5 millió kataszteri hold terület ármentesítését sikerült biztosítani, ami gazdasági szempontokat tekintve egyedülálló teljesítmény.

- a) Melyik folyónk szabályozásáról tájékoztatnak a források?
- b) Kik építették a több ezer km hosszú gátrendszert?
- c) Ki volt az egyik tervezője a munkálatoknak?
- d) Mennyivel lett rövidebb a folyó?
- e) Mennyivel csökkent az ár levonulásának ideje?
- f) Melyik évszázadban került sor a szabályozásra?


7. feladat

(6 pont)

Az alábbi képek történelmünk kiemelkedő eseményének fontos helyszíneit mutatják be. A képek és saját ismeretei alapján válaszoljon a kérdésekre! Válaszait a megfelelő kép alá írja! A középiskolai atlasz is segítségére lehet!



- a) Melyik eseményt örökítik meg a képek?

--	--	--

- b) Pontosan mikor (év, hónap, nap) történtek?

--	--	--



8. feladat

(5 pont)

XIX–XX. század fordulója idején készült lakások, szobák fotóit láthatja. Nézze meg figyelmesen, majd döntse el melyik társadalmi csoport tagjai élhettek az egyes lakásokban! A képek számát írja a megfelelő csoport neve alá a táblázatban!



1. kép



2. kép



3. kép



4. kép



5. kép

arisztokrácia, nagypolgárság	úri középosztály	kispolgárság	munkásság	Parasztság