

Országos Szakiskolai Közismereti Tanulmányi Verseny

2007/2008

TÖRTÉNELEM

I. (iskolai) forduló

2007. december 13.

Megoldás és pontozási útmutató

*A kérdéseknél 1-1 pont adható minden helyes feladategységre.
Az eltéréseket külön jelöljük.*

1. feladat

(6/)

Olvassa el figyelmesen a különböző korokból származó törvényrészleteket!

a) Válassza ki, mely királyok uralkodása alatt születtek a törvények? Válaszát írja az idézet alatti téglalapba!

Könyves Kálmán *II. (Jagelló) Ulászló* *Szent László*
IV. Béla *II. András* *Szent István* *Hunyadi Mátyás*

„A boszorkányokról pedig, mivelhogy nincsenek, semmiféle emlékezet ne legyen”

3.

„Továbbá semmi szerpénzt, sem szabad dénár adót nem szedetünk a nemesek jószágán”

4.

„Tíz falu építsen egy templomot, ... Ruhákról és oltárterítőkről a király gondoskodjék, papról és könyvekről a püspök”

1.

„Ha valamely szabadot vagy rabszolgát lopáson érnek, akasszák fel.”

2.

„...az összes kapitányokat, századosokat, meg tizedeseket és a többi parasztok felbujtóit, valamint a nemesek nyilvánvaló gyilkosait...minden kegyelem mellőzésével meg kell ölni és mindenütt ki kell irtani.”

5

b) Jelölje a négyzetekben a királyok uralkodásának sorrendjét! (Az 1-es szám a legkorábban uralkodót jelentse!)

A hibátlan sorrendért jár a 6. pont.

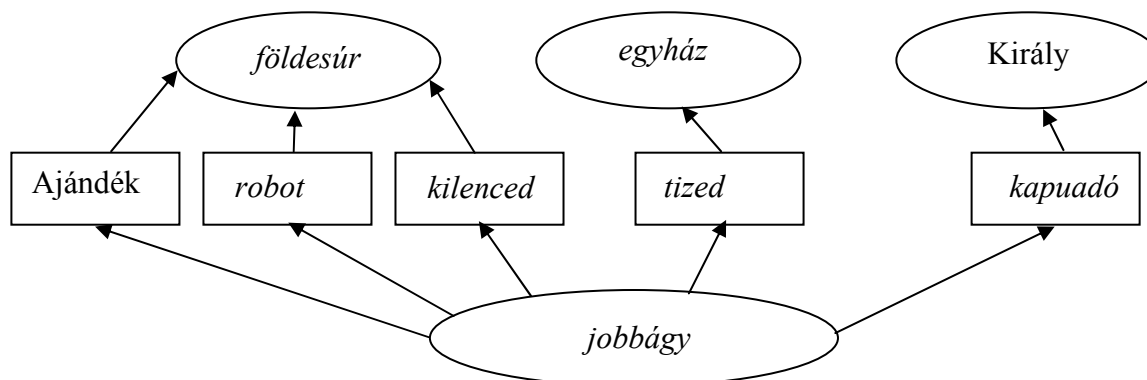
2. feladat

(8/)

Olvassa el figyelmesen az alábbi fogalmakat!

tized *földesúr* *kapudó* *jobbágy*
robot *egyház* *kilenced*

a) Töltse ki az ábrát!

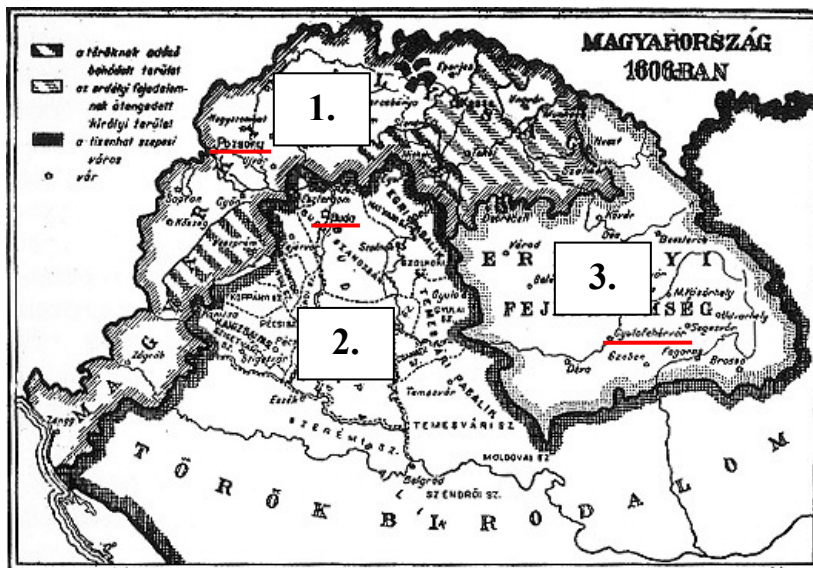


b) Mi lehetne az ábra címe?*A jobbágyok terhei (szolgáltatásai)*.....

3. feladat

(9/)

Nézze meg figyelmesen a térképet! Használhatja a Középkolai történelmi atlaszt is.



a) Töltse ki az alábbi táblázatot!




Országrész neve	Központja
1. Magyar Királyság	Pozsony
2. Török Hódoltság (Birodalom)	Buda
3. Erdélyi Fejedelemség	Gyulafehérvár

b) Húzza alá a térképen az adott országrész központját!

4. feladat

(11/)

Nézze meg figyelmesen a képeket és válaszoljon az alábbi kérdésekre! Használhatja a Középkolai történelmi atlaszt is. Válaszait a kérdések alá a táblázat kép alatti cellájába írja!

		
a) Mit ábrázol a kép?		
<i>gőzhajó</i>	<i>gőzmozdony</i>	<i>gőzgép</i>
b) Ki a feltalálója?		
<i>Fulton</i>	<i>Stephenson</i>	<i>Watt</i>
c) Melyik évben találták fel?		
<i>1807</i>	<i>1825 vagy 1814</i>	<i>1769</i>
d) Hogy nevezzük azt a folyamatot (korszakot), amelyhez a képek kapcsolódnak?		
<i>Ipari forradalom</i>		
e) Melyik országban kezdődött el ez a folyamat?		
<i>Anglia</i>		

5. feladat

(10/)

Olvassa el figyelmesen, majd csoportosítsa a reformáció két nagy irányzatához kapcsolódó alábbi meghatározásokat! Írja a meghatározások betűjelét a megfelelő oszlopba!

- | | | |
|--------------------------|--|-----------------|
| a) Németország | b) Az ember a hit által üdvözülhet | c) Kálvin János |
| d) Eleve elrendelés elve | e) Luther Márton | f) protestáns |
| g) Svájc | h) Anyanyelv használata a szertartásokon | |

<i>Evangélikus</i>	<i>Református</i>
<i>a), b), e), f), h)</i>	<i>c), d), f), g), h)</i>

6. feladat

(7/)

Nézze meg figyelmesen a táblázatokat, majd válaszoljon az alábbi kérdésekre! Válaszait a kérdések alatti vonalra írja!

Magyarország lakossága	
XVIII. század eleje	XVIII. század vége
4 millió	9,3 millió

A Magyar Királyság nemzetiségi megoszlása (%-ban)									
	magyar	német	román	szlovák	kárpát-ukrán	horvát	szlovén	szerb	egyéb
Magyarország	52,5	10,63	10,86	15,6	5,23	1,48	0,48	2,32	0,9
Erdély	30,4	14,35	50,61	-	-	-	-	-	4,44
Horvátország	4,49	0,5	-	-	-	98,2		0,99	-
Szlavónia	6,79	0,71	-	-	-	45,71		46,79	-
Határőrvidék	7,54	4,81	9,73	-	-	35,52		42,4	-

- a) Sorolja fel melyek a népességnövekedés okai!

Természetes szaporulat, Bevándorlás, Szervezett betelepítés.....

- b) Hogyan változtatta meg a népesség számának növekedése az etnikai/nemzetiségi viszonyokat?

A soknemzetiségű országban a magyarság kisebbségbe került.....

- c) A Magyar Királyság melyik (ország)részében élnek a legkisebb arányban románok? (Horvátországot, Szlavóniát nem számítva)

Határőrvidék.....

- d) Melyik (ország)részben él a legtöbbféle nemzetiség?

Magyarország.....


- e) Melyik (ország)részben a legnagyobb a nemzetiségek aránya?

Horvátország.....

7. feladat

(4/)

Nézz meg figyelmesen a képet és válaszoljon az alábbi kérdésekre!

	a) Kit ábrázol a kép? <i>Gróf széchenyi István</i>
	b) Mire ajánlotta fel egyéves jövedelmét? <i>Magyar Tudományos Akadémia megalapítása</i>
	c) Melyik évben volt ez a nevezetes esemény? <i>1825</i>
	d) Hogyan halt meg a képen látható személy? <i>Öngyilkosságot követett el</i>

8. feladat

(10/)

Olvassa el figyelmesen a következő megállapításokat, majd döntse el igazak (I) vagy hamisak (H) a következő állítások! Válaszát írja az állítás előtti keretbe!

H	A pesti forradalom győzelmének hatására az uralkodó Kossuth Lajost bízta meg kormányalakítással.
I	A magyar honvédsereg Pákozdnál aratta első győzelmét.
H	Az V. Ferdinánd által 1849. áprilisában szentesített törvények a polgári Magyarország alapjait teremtették meg.
H	Az olmützi alkotmány kimondta a Habsburg-ház trónfosztását.
I	1849-ben a tavaszi hadjárat fényes győzelmeket hozott a magyar honvédsereg számára.
H	1848 szeptemberében Haynau vezetésével indult meg a bécsi udvar első támadása.
I	A szabadságharc leverése után Magyarországot lényegében tartományként olvasztották be a Habsburg Birodalomba.
H	Az orosz cár a Habsburgoktól kért segítséget a magyar szabadságharc leveréséhez.
I	1848 tavaszán a pesti ifjúság 12 pontban foglalta össze, hogy mit kíván a magyar nemzet.
I	1848 decemberében V. Ferdinándot leváltották és Ferenc József került a birodalom élére.

9. feladat

(5/)

Melyik esemény történt korábban? A helyesnek tartott választ húzza alá!

Krími háború	vagy	<u>Török kiűzése Magyarországról</u>
<u>Angol polgári forradalom</u>	vagy	Rákóczi szabadságharc
Reformkor	vagy	<u>Nagy francia forradalom</u>
<u>Amerikai Egyesült Államok megalakulása</u>	vagy	Világosi fegyverletétel
<u>Olasz Királyság megalakulása</u>	vagy	Ferenc József magyar királlyá koronázása

10. feladat

(10/)

Egészítse ki az alábbi hiányos szöveget a megadott kifejezések felhasználásával! Írja a kipontozott vonalra a megfelelő kifejezéseket!

nagyhatalom gazdasági, kulturális katonai célok felosztása
csökkent szövetségi rendszerek gyarmatbirodalom újrafelosztás
boldog béke Osztrák–Magyar Monarchia

A 20. századi ember úgy tekint az 1914 előtti korra, hogy azok voltak a ... *boldog béke* ... idők. Magyarország is az ... *Osztrák–Magyar Monarchia* ... részeként nyugodt képet mutatott. A dualizmus kori ... *gazdasági, kulturális* ... fejlődés egyértelműen érzékelhető volt hazánkban. Magyarország lemaradása a fejlett nyugati országokhoz képest ... *csökkent* ...

A nemzetközi politikát öt ... *nagyhatalom* ... irányította. Tekintélyük alapja az volt, hogy ki mekkora ... *gyarmatbirodalommal* ... rendelkezett. A 19. századra elfogytak a gyarmatok, a világ ... *felosztása* ... befejeződött. Voltak azonban olyan országok, amelyek később léptek a gyarmatosítás útjára. Megindult tehát a harc a világ ... *újrafelosztásáért*... Ez fokozottan elmérgesítette a nagyhatalmak viszonyát és a ... *szövetségi rendszerek* ... létrehozásához vezetett, amelyek már kifejezetten ... *katonai célokat*... tűztek ki.