

Országos Szakiskolai Közismereti Tanulmányi Verseny

2007/2008

TÖRTÉNELEM

II. (regionális) forduló

2008. február 22.

.....
Helyszín fejbélyegzője

Versenyző		Pontszám		Százalék
Kódja		Elérhető	Elért	
.....		100%

..... Javító tanár Zsűri elnöke
-----------------------	-----------------------

Kedves Versenyző!





*A feladatok megoldására 90 perc áll rendelkezésére. A feladatokat tetszés szerinti sorrendben oldhatja meg, kérjük, ügyeljen az idő beosztására!
Feladatok megoldásához az iskolai történelmi atlasz használható!
(Azonos pontszám esetén az 1., 2., 6., 9. feladatokban elért pontszámok alapján döntünk az országos döntőbe jutás sorrendjéről.)*

Sikeres feladatmegoldást kívánunk!

1. feladat

(7/)

Azonos korban élő híres embereket ábrázolnak a képek. Oldja meg a hozzájuk csatlakozó feladatokat!

<p>A</p> 	<p>B</p> 	<p>a) Csoportosítsa foglalkozás alapján a képeket!</p> <p>1. csoport és</p> <p>2. csoport és</p> <p>b) Kinek a halála következett be 1848-ban?</p> <p>.....</p> <p>c) A képen látható férfiakból kettő tagja volt az első felelős magyar minisztériumnak.</p> <p>..... és</p> <p>d) Ki írta a Himnusz c. költeményt?</p> <p>.....</p> <p>e) Ki harcolt a szabadságharc idején Erdélyben?</p> <p>.....</p> <p>f) Ki hirdette meg a passzív ellenállást?</p> <p>.....</p> <p>(A képekhez rendelt betűjelekkel válaszoljon!)</p>
 <p>C</p>	 <p>D</p>	

2. feladat

(8/)

A XIX. század magyar közlekedési helyzetéről olvashat. Feladata, hogy egészítse ki a szöveget, majd válaszoljon a következő kérdésekre!

A Budát és Pestet elválasztó természetes állapota és rendezetlensége egyre több gondot okozott. A kereskedelem fő közlekedési útja – főleg az 1830-as években meginduló köszönhetően – ez a folyó lett, amelynek szakadozó, iszapos partjai, zátonyos, kanyarokkal és szigetekkel teli medre hátráltatta, sokszor lehetetlenné tette a vízi közlekedést. Ezért az egyik fontos feladat a folyam volt.

Ki szorgalmazta a vízi közlekedés fejlesztését?

Milyen más gyakorlati tevékenységek fűződnek a nevéhez a közlekedés fejlesztésében?

.....
.....
.....

Mikor és hol volt az alábbi idézetben olvasható esemény?

„Március 15. este: olyan magasra emelkedik a víz, hogy a Csepel-szigetcsúcsi jégtorlasz két oldalán már kb. 3 méteres a vízszintkülönbség. Éjjel 11 órakor 929 cm a 0 fölött tetőző árvíz, az addig észlelt legnagyobb vizet (1775) 165 cm-rel haladja meg.”

Helyszín: Időpont:

3. feladat

(8/)

A XIX–XX. század magyar eseményeit tartalmazza a táblázat. Karikázza be az ön által helyesnek tartott állítás előtti számot!

Ki volt az első felelős kormány miniszterelnöke?	1	Kossuth Lajos	2	Széchenyi István	3	Batthyány Lajos
Ki volt az árvízi hajós?	1	Kölcsey	2	Eötvös	3	Wesselényi
Hol tünt el Petőfi?	1	Komárom	2	Segesvár	3	Arad
Ki nem volt tagja a hármas szövetségnek?	1	Németország	2	Osztrák-Magyar Monarchia	3	Bulgária
Mi tartozott a dualista állam közös ügyének?	1	Hadsereg	2	Oktatás	3	Kereskedelem
Kinek az uralmát nevezzük „réaturalomnak”?	1	Haynau	2	Bach	3	Jellasics
Melyik évben ünnepeltük a millenniumot?	1	1867	2	1875	3	1896
Ki volt a kiegyezés „kovácsa”?	1	Andrássy Gyula	2	Baross Gábor	3	Deák Ferenc

4. feladat

(7/)

Az itt olvasható szöveg bemutatja milyen volt a magyar ipar helyzete a XIX. század elején. A szövegből azonban néhány szakkifejezés kiesett. Írja a kipontozott helyekre a megadott szakkifejezések betűjelét!

- a) külföldi, b) birodalom, c) fogyasztói iparágak,
d) gépipar, e) manufaktúrák, f) gyáriparba, g) növekedésében,

A magyarországi ipar fejlődését szintén a munkamegosztása határozza meg. A kézműves-céhes ipar és túlsúlya jellemezte, az 1830-as évektől megindult a (főleg osztrák) tőke beáramlása a kialakuló E fellendülés az ipari termelés és új iparágak megjelenésében mutatkozott meg. Az élelmiszeripari ágazatok mellett a vaskohászat és a szerepe kezdett növekedni. A kereslet növekedésével pedig bizonyos, amelyek a háztartásokat látták el pl. vas-, kőedényekkel, kaptak lendületet.

5. feladat

(4/)

Szerkessze tovább a táblázatot a megadott adatok alapján! Nem kell minden adatot felhasználnia! Egy adat csak egyszer használható!

Felhasználható adatok:

Évszámok: 1929, 1933, 1936, 1938, 1939. szeptember 1.

Személyek: Roosevelt, Churchill, Rommel, Montgomery, De Gaulle, Zsukov, Eisenhower, Keynes, Hitler

Helyszínek: Brit Nemzetközösség, Leningrád, Pearl Harbor, Auschwitz, Hiroshima, El-Alamein, Kurszk, Sztálingrád, Normandia






<i>Évszámok:</i>			1942	1944
<i>Személyek:</i>				
<i>Helyszínek:</i>	USA	Lengyelország		

6. feladat

(10/)

Az 1848-as magyar forradalom előzményeiről és eseményeiről olvashat a táblázat soraiban. Állítsa időrendi sorrendbe a szövegrészeket, és minden eseményhez rendeljen egy képet! A szövegek, illetve képek betűjelét írja a táblázatba!

	1	2	3	4	5
Szöveg					
kép					

<p>a) </p>	<p>b) Az összetülő bécsi kongresszus a történelmi dinasztiák hatalmának helyreállítását, és a Szent Szövetség létrehozását tűzte ki céljául.</p>
<p>c) Kossuth Lajos felirati javaslatot terjesztett a pozsonyi országgyűlésen az uralkodó elé, melyben többek között a jobbágyfelszabadítást is meghirdette.</p>	<p>d) </p>
<p>e) Az osztrák császár kérésére Oroszország segítséget nyújtott a közös ellenség a „forradalom leverésére”.</p>	<p>f) </p>
<p>g) </p>	<p>h) A bécsi forradalom következtében lemondott Ausztria kancellárja, Metternich herceg, és elmenekült a fővárosból</p>
<p>i) A forradalmak Párizsból indultak ki, ahol az átalakulásért és a szabadságért küzdő tömegek a barikádokra vonultak</p>	<p>j) </p>

7. feladat

(3/)

Azonosítsa a meghatározások alapján a fogalmakat!

a) A XVIII. században kibontakozó eszmeáramlat, elgondolásai a felvilágosodásban gyökereznek. Hirdeti a népképviselőten alapuló parlamentarizmust, a polgári szabadságjogok biztosítását, a toleráns magatartást. Gazdaságpolitikájában az állami beavatkozástól mentes szabad verseny híve.

.....

b) A polgári nemzet születésével együtt a XIX. század elején jelentkező ideológiai irányzat. A társadalom alapvető egységének a nemzetet tartja. Az egy nemzethez tartozók egy államban egyesítését tekinti fő céljának.

.....

c) A gazdaság ugrásszerű fejlődésének folyamata, amely átalakította a társadalmi szerkezetet és az életmódot, elősegítette a népesség rohamos növekedését, és a városiasodást. A gépek alkalmazásával indult, s a gépek gépek általi előállításával teljesedett ki. E folyamat elsőként Angliában zajlott le.




.....

8. feladat

(10/)

A XIX– XX. század fordulóján jelentős technikai újítások születtek, ezeket látja a képen. Válaszoljon a kérdésekre!

Hogyan hívjuk ezt a folyamatot?

		
Mi a képen látható találmány neve?		
.....
Kinek a találmánya?		
.....
Mi a gazdasági jelentősége?		
.....
.....

9. feladat

(8/)

A szöveg és a kép alapján válaszoljon a következő kérdésekre!

1870-ben fogadta el az országgyűlés a főváros rendezéséről szóló törvényt, mely tartalmazta a következő évtizedek legfontosabb városrendezési feladatait:

- két új Duna-híd építését,
- a kis- és nagykörút kiépítését,
- a Sugár út (ma Andrassy út) megnyitását,
- a Duna mindkét partjának szabályozását,
- az alapvető közművek kiépítését.



Pest-Buda szobra a Gellért-hegyen

Mikor jött létre Budapest?

Milyen városok egyesüléséből jött létre?

.....

Milyen jelentős történelmi esemény megünneplésére segítette a város fejlesztését?

.....

Mik lehettek a kitűzött fejlesztések gazdasági céljai?

.....

10. feladat

(17/)

Az első világháborúhoz kötődő Schliffen-terv lépéseit összekevertük. Számozással alakítsa ki a helyes sorrendet! A legkorábban történő kapja a legkisebb számot!

	A német csapatokat átcsoportosítják a keleti frontra, ahol legyőzik az oroszokat.
	Osztrák-Magyar Monarchia csapatai legyőzik Szerbiát.
	Hat hét alatt a németek legyőzik Franciaországot.
	Ezalatt az Osztrák-Magyar Monarchia csapatai tartják az orosz frontot.

Miért nem valósulhatott meg a haditerv?

.....

A történelmi atlasz segítségével töltsse ki a táblázatot!

Nagyhatalmi csoport neve		
Nyugati front / Szemben álló erők		
Keleti front / Szemben álló erők		
Déli front / Szemben álló erők		

A következő állításokról döntse el, igaz vagy hamis (I –H betűvel jelölje!)

	Az USA hadba lépése 1917 áprilisában történt.
	A Monarchiát meghívták a béketárgyalásokra.
	Japán nem tarthatta meg a németektől elfoglalta szigeteket.
	Németországnak nem korlátozták a hadseregét a béke után.
	Oroszországban szocialista forradalom robbant ki.

11. feladat

(3/)

A két világháború közötti Magyarországon készült az itt látható politikai plakát. Nézze meg figyelmesen, majd válaszoljon a következő kérdésekre!



Milyen nemzetközi esemény ellen tiltakozik a plakát?

.....

A plakát készítője miben látja a megoldást?

.....

Az 1930-as évek végén milyen politikai esemény következtében tűnhetett úgy, hogy a plakát rajzolójának igaza lett? (Írja az esemény megnevezést és dátumát a vonalra!)

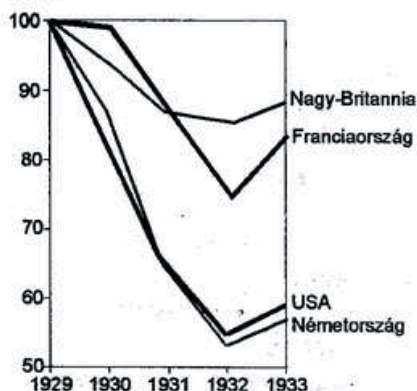
.....

12. feladat

(4/)

A két világháború közötti időszakban jelentős gazdasági válság következett be a tőkés országokban. A diagram és saját ismeretei alapján válaszoljon a kérdésekre!

AZ IPARI TERMELÉS INDEXE A NÉGY LEGNAGYOBB TŐKÉS ÁLLAMBAN (%-ban)



Melyik, a diagramban szereplő ország gazdasága vészelt át legjobban a gazdasági válságot?

.....

Mi volt ennek az oka?

.....

Mi az oka annak, hogy Németország termelése még az USA-nál is mélyebbre zuhant?

.....

13. feladat

(8/)

A kép a teheráni konferencián készült. Válaszoljon a képhez kapcsolódó kérdésekre!

a) Milyen országok vezetői találkoztak a konferencián?

b) A csúcstalálkozón három nagy kérdésről döntöttek, melyek voltak ezek?

1.

2.

3.



A tárgyalások más kérdéseket is érintettek. Feladata, hogy egészítse ki a mondatokat!

A teheráni konferencián érintették Németország jövőjét is, de

.....
Sztálin ígéretet tett az amerikai elnöknek, hogy az európai háború befejezése után

.....

14. feladat

(3/)

Az idézetek alatt található szakkifejezések közül, húzza alá azt, amely ön szerint az idézetre vonatkozik!

A német erők három irányból támadtak az országra. Ha rosszindulatúak akarnánk lenni, azt is mondhatnánk: úgy haladtak előre, mint kés a vajban. Bajcsy-Zsilinszky Endre tettét, és néhány helyi lövöldözést leszámítva gyakorlatilag semmifajta ellenállásba nem ütköztek a németek.

Barbarossa-terv,

Margaréta-terv,

Oroszlánfőka-hadművelet

Október 15-én reggel a németek hamis üzenettel titkos találkozóra hívták és elfogták Horthy fiát, akit szőnyegbe csavarva vittek el. Nagyjából ekkor zajlott a Várban a Koronatanács ülése, amelyen Horthy bejelentette, hogy fegyverszünetet kért, a kormány támogatta álláspontját.

Horthy fegyverszüneti tárgyalása,

deportálás

kiugrási kísérlet

Hitler 1939. március 13-án azt a kívánságát közölte Horthy Miklós kormányzóval, hogy a magyar csapatok késedelem nélkül vonuljanak be Kárpátaljára. Ez és az új lengyel-magyar határ elérése néhány napon belül megtörtént.

első bécsi döntés

második bécsi döntés

Anschluss