

## Országos Szakiskolai Közismereti Tanulmányi Verseny

2005/2006

### TÖRTÉNELEM

I. (iskolai) forduló

2005. december 8.

.....  
Iskola fejbélyegzője

Versenyző		Pontszám		Százalék
Neve	Osztálya	Elérhető	Elért	
.....	.....	64	.....	.....%

..... Javító tanár	..... Zsűri elnöke
-----------------------	-----------------------

***Kedves Versenyző!***

*A kérdések megválaszolására 60 perc áll rendelkezésére. A feladatokat tetszés szerinti sorrendben oldhatja meg, kérjük, ügyeljen az idő beosztására!*

***Sikeres feladatmegoldást kívánunk!***

**1. Húzza alá, mely fogalmak kapcsolódnak a nomád életmódhoz!**

- a) zsákmányoló életmód                      b) földművelés                      c) istállózó állattartás  
d) vándorlás                                      e) gyűjtögetés                      f) legeltető állattartás  
g) letelepedett életmód

pont

**2. Írja az esemény előtti üres téglalapba a megfelelő évszámot!**

a)		Aranybulla kiadása
b)		Nándorfehérvári diadal
c)		Mohácsi vész
d)		Angol polgári forradalom kezdete
e)	–	Rákóczi szabadságharc
f)		Kiegyezés
g)	–	A második világháború

pont

**3. Kinek a nevéhez kapcsolódik? Válassza ki a felsoroltak közül, és írja a meghatározás utáni téglalapba a történelmi személyiség nevét!**

- III. András                      Dózsa György                      Széchenyi István                      Horthy Miklós  
Batthyány Lajos                      Bocskai István                      II. Rákóczi Ferenc                      Andrássy Gyula  
Géza fejedelem

a)	Kereszténység felvétele	
b)	Árpád-ház kihalása	
c)	Parasztháború	
d)	Hajdúszabadság	
e)	MTA megalapítása	
f)	Az első felelős kormány miniszterelnöke	
g)	Magyarország kormányzója	

pont

**4. Egészítse ki az alábbi hiányos szöveget a megadott kifejezések felhasználásával!**

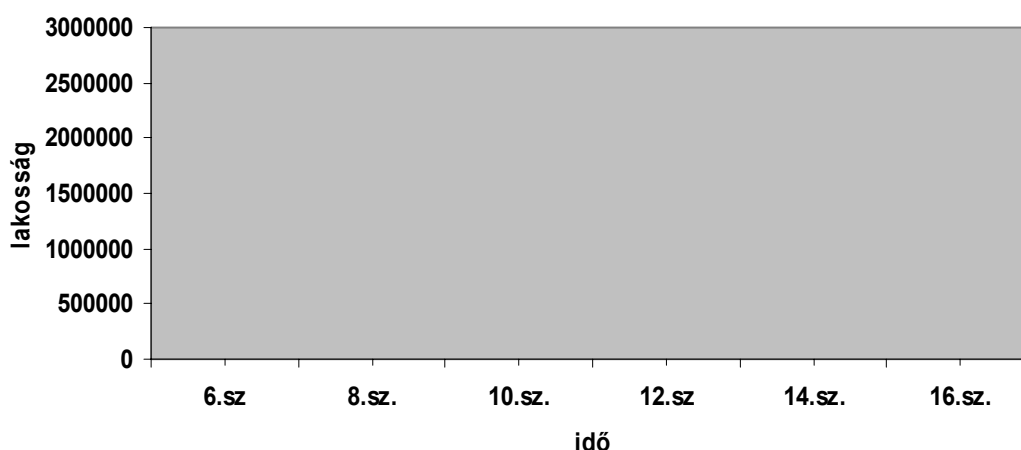
- a) pápa      b) király      c) szerzetes      d) István  
e) ispán      f) vármegye      g) egyházszervezet      h) törvény

Géza fejedelem halála után fia ..... kerül a trónra. Három évvel később a ..... kapott koronával ..... koronáztatta magát. Az országot ..... osztotta fel, melyek vezetésével ..... bízott meg, akik a királyi hatalmat képviselték az adott területen. Kiepült az önálló magyar ..... Támogatta a ..... térítők munkáját. .... biztosította a keresztény szokások meghonosítását és a magántulajdon, a közrend védelmét.

pont

**5. Készítsen grafikont Magyarország népességének alakulásáról az alábbi szöveg adatainak felhasználásával! Az „idő” tengelyen jelölje be az idézetben szereplő három történelmi esemény pontos időpontját!**

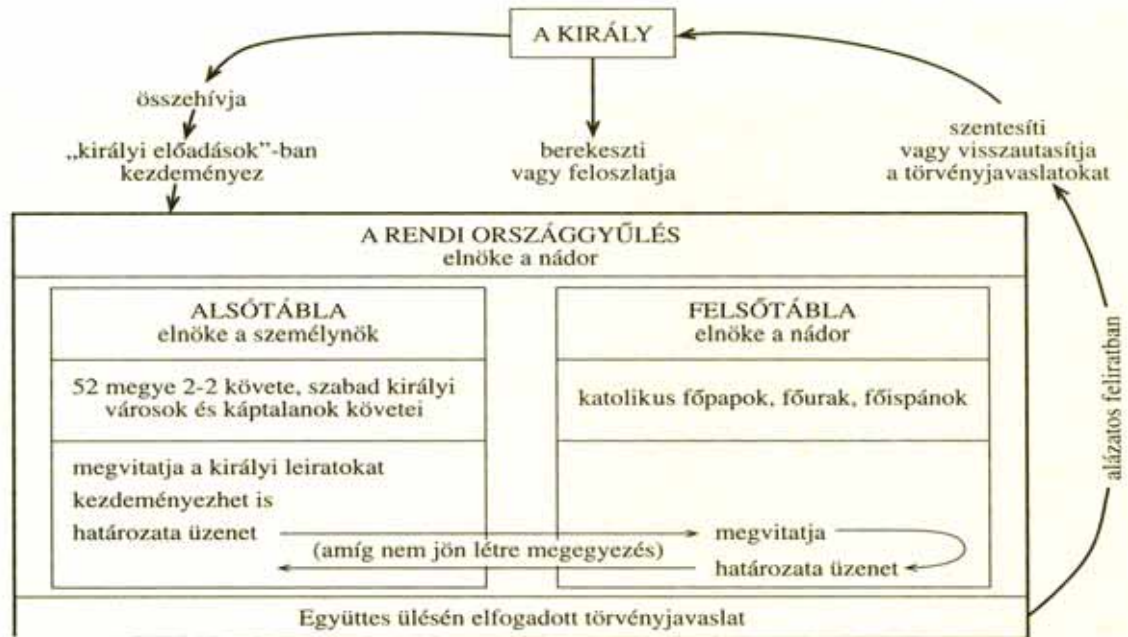
„Magyarország lélekszáma a honfoglaláskor 500 000 lehetett, ez a 12. század közepére megduplázódott, majd egy évszázad alatt ismét a duplájára emelkedett, ám a tatárjárás pusztítása következtében az Árpád-kor végére a 12. századi szintre esett vissza.”



pont

**6. Válaszoljon az alábbi kérdésekre az ábra alapján!**

a)	Milyen részekből áll a rendi országgyűlés?	
b)	Ki a rendi országgyűlés elnöke?	
c)	Melyek a király feladatai?	



pont

**7. Mikor éltek? Írja a táblázat megfelelő oszlopába a felsorolt magyar írók, tudósok neve előtt szereplő betűt!**

- |                        |                   |                   |
|------------------------|-------------------|-------------------|
| a) Apáczai Csere János | b) Károlyi Gáspár | c) Thuróczy János |
| d) Janus Pannonius     | e) Pázmány Péter  | f) Vitéz János    |
| g) Anonymus            | h) Zrínyi Miklós  |                   |

Amerika felfedezése (1492)	
előtt	után

pont

**8. Nézze meg alaposan a képet, és válaszoljon a kérdésekre!**



**a) Hol, és milyen eseményt örökített meg a fotós?**

.....  
.....

**b) Mikor készült a felvétel?**

.....

pont

**9. Párosítsa össze az alábbi fogalmakat és meghatározásokat! A meghatározás utáni téglalapba írja be a megfelelő fogalom számát!**

- 1- nádor                      2- kilenced                      3- reformáció                      4- humanizmus  
5- tized                      6- vámunió                      7- dualista állam                      8- perszónálunió  
9- keresztes hadjárat

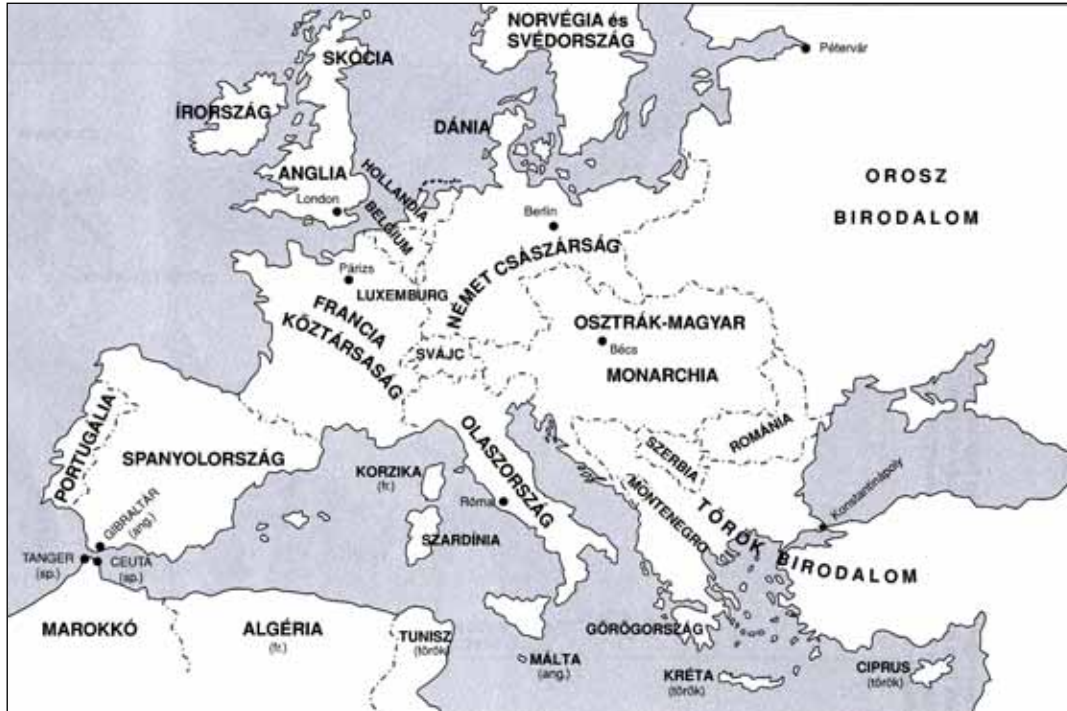
<b>a)</b>	A földműves egyházi adója	
<b>b)</b>	Emberközpontú világkép a középkorban	
<b>c)</b>	Kétközpontú állam	
<b>d)</b>	A király helyettese, a legmagasabb főúri méltóság	
<b>e)</b>	A pápa engedélyével meghirdetett hadjárat	
<b>f)</b>	A nyugati keresztényegyház több részre szakadás a 16. század során	
<b>g)</b>	A belső vámok eltörlésével kialakított egységes vámrendszer	

pont

### 10. Jelölje a térképen

*csíkozással (a) azon országok területét, amelyek a központi hatalmak,*

*pöttyözéssel (b) azon országokét, amelyek az antant szövetségi rendszeréhez tartoztak az első világháború idején!*



c) Nevezzen meg három olyan fegyvert, amelyet az első világháborúban alkalmaztak először!

- 1.....
- 2.....
- 3.....

pont

***Kedves Versenyző!***

*Reméljük, megfelelően gazdálkodott az idővel, és sikerült helyesen válaszolni valamennyi kérdésre!*

*Így bizonyára van lehetősége még egyszer átnézni megoldásait!*

***Gratulálunk a versenyen való részvételéhez!***