

Országos Szakiskolai Közismereti Tanulmányi Verseny

2007/2008

TÖRTÉNELEM

I. (iskolai) forduló

2007. december 13.

.....
Iskola fejbélyegzője

Versenyző		Pontszám		Százalék
Neve	Osztálya	Elérhető	Elért	
.....	80%

..... Javító tanár Zsűri elnöke
-----------------------	-----------------------

Kedves Versenyző!

A kérdések megválaszolására 60 perc áll rendelkezésére. A feladatokat tetszés szerinti sorrendben oldhatja meg, melyhez a Középiszkolai történelmi atlaszt használhatja.

Kérjük, ügyeljen az idő beosztására!

Sikeres feladatmegoldást kívánunk!

1. feladat

(6/)

Olvasa el figyelmesen a különböző korokból származó törvényrészleteket!

a) Válassza ki, mely királyok uralkodása alatt születtek a törvények? Válaszát írja az idézet alatti téglalapba!

Könyves Kálmán
IV. Béla

II. (Jagelló) Ulászló
II. András

Szent István

Szent László
Hunyadi Mátyás

„A boszorkányokról pedig, mivelhogy nincsenek, semmiféle emlékezet ne legyen”

„Továbbá semmi serpénzt, sem szabad dénár adót nem szedetünk a nemesek jószágán”

„Tíz falu építsen egy templomot, ...Ruhákról és oltárterítőkről a király gondoskodik, papról és könyvekről a püspök”

„Ha valamely szabadot vagy rabszolgát lopáson érnek, akasszák fel.”

„...az összes kapitányokat, századosokat, meg tizedeseket és a többi parasztnak felbujtóit, valamint a nemesek nyilvánvaló gyilkosait...minden kegyelem mellőzésével meg kell ölni és mindenütt ki kell irtani.”

b) Jelölje a négyzetekben a királyok uralkodásának sorrendjét! (Az 1-es szám a legkorábban uralkodót jelentse!)

2. feladat

(8/)

Olvasa el figyelmesen az alábbi fogalmakat!

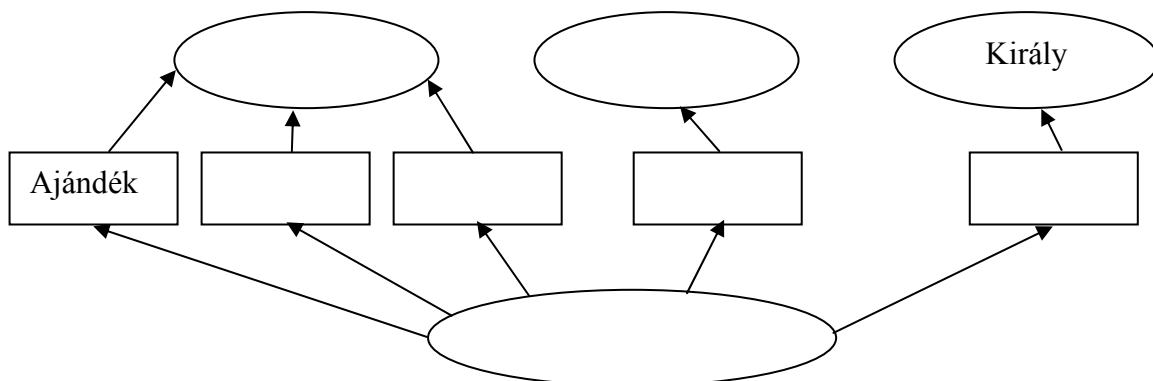
tized
robot

földesúr
egyház

kapuadó

jobbágy
kilenced

a) Töltse ki az ábrát!



b) Mi lehetne az ábra címe?

3. feladat

(9/)

Nézze meg figyelmesen a térképet! Használhatja a Középiskolai történelmi atlaszt is.



a) Töltse ki az alábbi táblázatot!




Országrészt neve	Központja
1.	
2.	
3.	

b) Húzza alá a térképen az adott ország rész központját!

4. feladat

(11/)


Nézze meg figyelmesen a képeket és válaszoljon az alábbi kérdésekre! Használhatja a Középiskolai történelmi atlaszt is. Válaszait a kérdések alá a táblázat kép alatti cellájába írja!

		
a) Mit ábrázol a kép?		
b) Ki a feltalálója?		
c) Melyik évben találták fel?		
d) Hogy nevezzük azt a folyamatot (korszakot), amelyhez a képek kapcsolódnak?		
e) Melyik országban kezdődött el ez a folyamat?		

7. feladat

(4/)

Nézz meg figyelmesen a képet és válaszoljon az alábbi kérdésekre!

	a) Kit ábrázol a kép?
	b) Mire ajánlotta fel egyéves jövedelmét?
	c) Melyik évben volt ez a nevezetes esemény?
	d) Hogyan halt meg a képen látható személy?

8. feladat

(10/)

Olvassa el figyelmesen a következő megállapításokat, majd döntse el igazak (I) vagy hamisak (H) a következő állítások! Válaszát írja az állítás előtti keretbe!

<input type="checkbox"/>	A pesti forradalom győzelmének hatására az uralkodó Kossuth Lajost bízta meg kormányalakítással.
<input type="checkbox"/>	A magyar honvédsereg Pákozdnál aratta első győzelmét.
<input type="checkbox"/>	Az V. Ferdinánd által 1849. áprilisában szentesített törvények a polgári Magyarország alapjait teremtették meg.
<input type="checkbox"/>	Az olmützi alkotmány kimondta a Habsburg-ház trónfosztását.
<input type="checkbox"/>	1849-ben a tavaszi hadjárat fényes győzelmeket hozott a magyar honvédsereg számára.
<input type="checkbox"/>	1848 szeptemberében Haynau vezetésével indult meg a bécsi udvar első támadása.
<input type="checkbox"/>	A szabadságharc leverése után Magyarországot lényegében tartományként olvasztották be a Habsburg Birodalomba.
<input type="checkbox"/>	Az orosz cár a Habsburgoktól kért segítséget a magyar szabadságharc leveréséhez.
<input type="checkbox"/>	1848 tavaszán a pesti ifjúság 12 pontban foglalta össze, hogy mit kíván a magyar nemzet.
<input type="checkbox"/>	1848 decemberében V. Ferdinándot leváltották és Ferenc József került a birodalom élére.

9. feladat

(5/)

Melyik esemény történt korábban? A helyesnek tartott választ húzza alá!

Krími háború	vagy	Török kiűzése Magyarországról
Angol polgári forradalom	vagy	Rákóczi szabadságharc
Reformkor	vagy	Nagy francia forradalom
Amerikai Egyesült Államok megalakulása	vagy	Világosi fegyverletétel
Olasz Királyság megalakulása	vagy	Ferenc József magyar királlyá koronázása

10. feladat

(10/)

Egészítse ki az alábbi hiányos szöveget a megadott kifejezések felhasználásával! Írja a kiegészített vonalra a megfelelő kifejezéseket!

nagyhatalom *gazdasági, kulturális* *katonai célok* *felosztása*
csökkent *szövetségi rendszerek* *gyarmatbirodalom* *újrafelosztás*
boldog béke *Osztrák–Magyar Monarchia*

A 20. századi ember úgy tekint az 1914 előtti korra, hogy azok voltak a
idők. Magyarország is az részeként nyugodt képet mutatott. A dualizmus
kori fejlődés egyértelműen érzékelhető volt hazánkban. Magyarország le-
maradása a fejlett nyugati országokhoz képest

A nemzetközi politikát öt irányította. Tekintélyük alapja az volt, hogy ki
mekkora rendelkezett. A 19. századra elfogytak a gyarmatok, a világ
..... befejeződött. Voltak azonban olyan országok, amelyek később léptek a
gyarmatosítás útjára. Megindult tehát a harc a világ Ez fokozottan elmér-
gesítette a nagyhatalmak viszonyát és a létrehozásához vezetett, amelyek
már kifejezetten tűztek ki.